

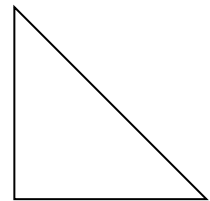


Prénom :

Date :



L'angle droit

Peux-tu dire à Gus combien d'angles droits tu vois dans les dessins ?
Entoure ta réponse en rouge



① - ② - ③ - ④ - ⑤ - ⑥ - ⑦ - ⑧ - ⑨ - ⑩

CORRECTION



L'angle droit

① - ② - ③ - ④ - ⑤ - ⑥ - ⑦ - ⑧ - ⑨ - ⑩